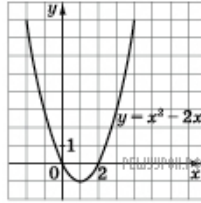
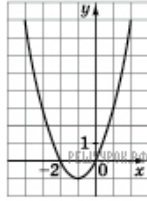


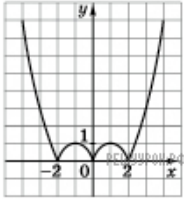
На рисунку зображено графік функції  $y = x^2 - 2x$ .  
 Укажіть графік функції  $y = |x^2 - 2x|$ .



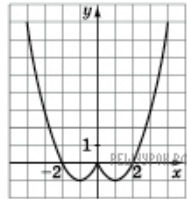
А



Б



В



Г



Д

- А) А    Б) Б    В) В    Г) Г    Д) Д